

## КОНТРОЛЬНО-ИЗМЕРИТЕЛЬНЫЕ МАТЕРИАЛЫ

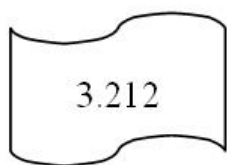
ПРАКТИЧЕСКИЕ РАБОТЫ находятся по ссылке google-диска:

<https://drive.google.com/drive/folders/1nKjqJNc3drFvN3EBBAZLwHcShcSaMD2K?usp=sharing>

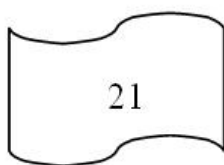
(Внимательно смотрите спецификацию)

**Задание 1.**

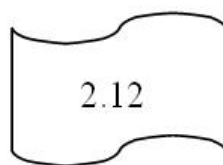
Петя записал IP-адрес школьного сервера на листке бумаги и положил его в карман куртки. Петина мама случайно постирала куртку вместе с запиской. После стирки Петя обнаружил в кармане четыре обрывка с фрагментами IP-адреса. Эти фрагменты обозначены буквами А, Б, В и Г. Восстановите IP-адрес. В ответе укажите последовательность букв, обозначающих фрагменты, в порядке, соответствующем IP-адресу.



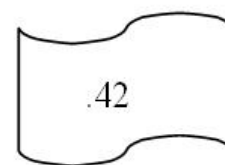
А



Б



В



Г

РЕШУЕГЭ.РФ

**Задание 2.**

Доступ к файлу ftp.net, находящемуся на сервере txt.org, осуществляется по протоколу http. В таблице фрагменты адреса файла закодированы буквами от А до Ж. Запишите последовательность этих букв, кодирующую адрес указанного файла в сети Интернет.

А	.net
Б	ftp
В	://
Г	http
Д	/
Е	.org
Ж	txt

**Задание 3.**

В терминологии сетей TCP/IP маской сети называется двоичное число, определяющее, какая часть IP-адреса узла сети относится к адресу сети, а какая – к адресу самого узла в этой сети. Обычно маска записывается по тем же правилам, что и IP-адрес. Адрес сети получается в результате применения поразрядной конъюнкции к заданному IP-адресу узла и маске.

По заданным IP-адресу узла и маске определите адрес сети.

IP адрес узла: 217.9.142.131

Маска: 255.255.192.0

При записи ответа выберите из приведенных в таблице чисел четыре элемента IP-адреса и запишите в нужном порядке соответствующие им буквы, без использования точек.

A	B	C	D	E	F	G	H
0	9	16	64	128	142	192	217

Пусть искомый IP-адрес 192.168.128.0, и дана таблица

A	B	C	D	E	F	G	H
128	168	255	8	127	0	17	192

В этом случае правильный ответ будет записан в виде: HBAF.

#### Задание 4.

В некотором каталоге хранился файл Сирень.doc, имевший полное имя D:\2013\Лето\Сирень.doc. В этом каталоге создали подкаталог Июнь и файл Сирень.doc переместили в созданный подкаталог. Укажите полное имя этого файла после перемещения.

- 1) D:\2013\Лето\Сирень.doc
- 2) D:\2013\Лето\Июнь\Сирень.doc
- 3) D:\2013\Июнь\Сирень.doc
- 4) D:\Июнь\Сирень.doc

#### Задание 5.

Протоколом интернета, который отвечает за передачу web – страниц, является:

- 1) HTTP
- 2) POP3
- 3) TCP/IP
- 4) FTP

#### Задание 6.

Что такое Гиперссылка? Выберите один из 5 вариантов ответа:

- 1) это сеть документов, связанных между собой гиперссылками
- 2) это компьютер, на котором работает сервер-программа
- 3) это некоторое ключевое слово или объект в документе, с которым связан указатель для перехода на другую страницу в паутине
- 4) протокол передачи гипертекста
- 5) универсальный указатель ресурса

#### Задание 7.

С помощью каких прикладных программ нельзя создать web-страницу:

- 1) Microsoft Word
- 2) Блокнот
- 3) Paint
- 4) Adobe Dreamweaver

**Задание 8.**

Как именуются команды, с помощью которых определяет внешний вид отдельного элемента Web-страницы?

- 1) Ссылка
- 2) Указатель
- 3) Тег
- 4) Скрипт

**Задание 9.**

Что означает следующая запись в HTML-документе

`<FONT color=blue face="Time New Roman">Историясоздания</FONT>`:

- 1) Указанный текст должен быть написан курсивом и стилем TimeNewRoman
- 2) Указанный текст выравнивается по центру и стиль TimeNewRoman
- 3) Указанный текст имеет красный цвет, полужирный и стиль TimeNewRoman
- 4) Указанный текст имеет синий цвет и стиль TimeNewRoman
- 5) Указанный текст имеет ссылку синего цвета и стиль TimeNewRoman

**Задание 10.**

*О чем говорит принцип эмерджентности?*

*Относительная обособленность от среды своего существования*

*Части системы всегда связаны между собой и находятся в определенных отношениях*

*Целое больше суммы своих частей*

*Совокупность материальных или информационных объектов, обладающая определенной целостностью*