

**Промежуточная аттестация по технологии (девочки) за 1 полугодие 7 класса
«Культура дома и декоративно-прикладное творчество»**

Промежуточная аттестация состоит из 2 частей:

1. Проверки теоретических знаний в формате теста
2. Практического задания.

Время промежуточной аттестации – 45 мин

Структура работы

Задание		Время на выполнение задания	Форма проведения	Проверяемые умения
1.	Тест	30 мин	Письменный ответ на вопросы	– называть и характеризовать актуальные технологии производства и обработки материалов
2.	Практическое задание	10 мин	Выполняется дома На защите описывается технология изготовления изделия	– следовать технологии, в том числе в процессе изготовления субъективно нового продукта – выполняет эскизы механизмов – планирование (разработку) материального продукта в соответствии с задачей собственной деятельности

ТЕСТ

1. Вставьте пропущенное слово:

_____ – это искусство приготовления пищи.

2. Определите назначение перечисленных видов бытовой техники для кухни:

Бытовая техника		Назначение	
А	Холодильник	1	Мытьё и сушка посуды
Б	Микроволновая печь	2	Хранение продуктов и приготовленной пищи
В	Посудомоечная машина	3	Быстрый разогрев пищи, разморозка продуктов

А _____, Б _____, В _____.

3. Окончив еду, следует положить

1. нож слева, а вилку справа от тарелки
2. нож справа, а вилку слева от тарелки
3. нож и вилку на тарелку рядом, параллельно друг другу ручками вправо
4. нож и вилку на тарелку, скрестив между собой

4. Из какой зерновой культуры производят крупу «Геркулес»?

1. пшеница 2. полба 3. рис 4. овес 5. гречиха 6. Пшено

5. Вычеркните лишние слова:

- а) ПЕЧЕНЬ, ЛЁГКИЕ, ПОЧКИ, СЕРДЦЕ, СУХОЖИЛИЯ, ЯЗЫК, МОЗГИ
 б) Мясо – ЗАМОРОЖЕННОЕ, ЗАГРЯЗНЁННОЕ, ОХЛАЖДЁННОЕ, СВЕЖЕЕ

6. Допишите пословицу

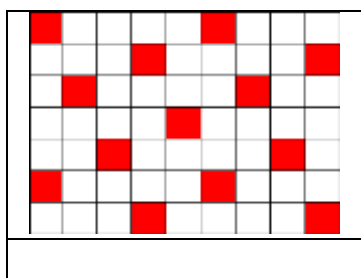
Рыба – вода, ягода – трава, а хлеб - _____

7. Перечислите названия заправочных супов

1	
2	
3	

8. Замените словосочетание одним термином

1. неосыпающийся край ткани – _____
 2. долевые нити – _____
 3. поперечные нити – _____

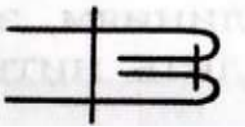
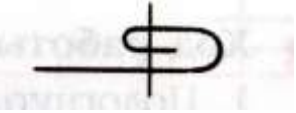

9. Определите по рисунку вид переплетения и запишите его название:**10. Отгадайте загадку:**

Одной мне скучно, как всегда, куда она – туда и
 я _____

11. Верны ли следующие утверждения:

Утверждения	да	нет
1.Хлопок выращивают в странах с холодным климатом		
2.Чтобы выполнить закрепку, нужно нажать на клавишу шитья назад		
3.При повороте строчки под углом следует оставить иглу в ткани, поднять прижимную лапку и повернуть изделие		

12. установите соответствие между видами машинных швов и условными обозначениями

Условное обозначение		Виды швов	
1		А	Стачной вразутюжку
2		Б	Двойной
3		В	Вподгибку с закрытым срезом

Ответ 1 _____, 2 _____, 3 _____.

13. Какой детали нет у машинной иглы?

1. Колба 2. Желобок 3. Ушко 4. Банка

14. Подчеркните, кто занимается моделированием одежды:

1. швея 2. закройщик 3. художник-модельер 4. художник-конструктор

15. Какой метод построения чертежа плечевого изделия вы использовали при изготовлении изделия?





1. расчетно-графический 2. муляжный 3. макетирования

16. По какой формуле определяется ширина плечевого изделия?

1. Сш:3+1,0 2. Оп:2+Поп 3. СгП :2 + Пг

17. Процесс изменения чертежа основы изделия в соответствии с выбранной моделью называется _____

18. Установите соответствие между названием петли, условным обозначением и графическим изображением при вязании крючком

Название петли		Условное обозначение	
1	Воздушная петля	А	
2	Столбик без накида	Б	
3	Столбик с накидом	В	
4	Соединительный столбик	Г	

19. Определите по рисунку виды вышивки и подпишите их названия



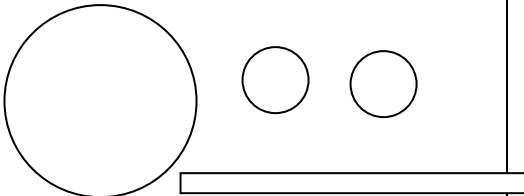


20. Этикет – это:

1. наука о здоровье человека;
2. область науки, изучающая влияние пищи на организм человека;
3. строго установленный порядок поведения

ПРАКТИЧЕСКАЯ РАБОТА

«Выполнить мягкую игрушку мышку – символ 2020 года»

Материалы и инструменты: трикотаж светлых тонов, маленькие пуговицы, бусинки для украшения, наполнитель для набивки (синтепон, холлофайбер, техническая вата), рабочая коробка.

№ п/п	Содержание операции	Рисунок
1.	Выкроить 1 круг - основу (диаметр 14 см), 2 круга – ушки (диаметр 3 см), тонкую, длинную полоску – хвост	
2.	Большой круг прошить по краю швом «вперёд иголкой», стянуть, набить наполнителем.	
3.	Животик мышки зашить «потайным швом» придав ей форму «фасолинки»	
4.	К задней части мышки пришить хвостик	
5.	Ушки сложить и пришить к голове	
6.	Оформить голову мышки: глазки, носик, усики, и т.д.	

Самоконтроль:

- Стежки должны быть ровные и аккуратные
- Изделие плотно набито, без складок
- Нитки в цвет фурнитуры
- Соблюдение правил техники безопасности